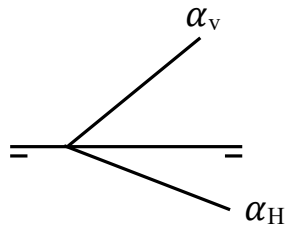
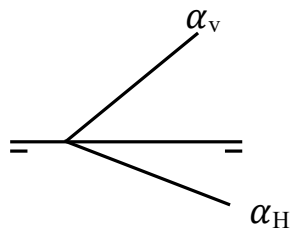


### Abatimientos.

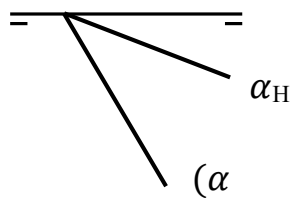
Encuentra la traza vertical abatida sobre el plano horizontal



Encuentra la traza horizontal abatida sobre el plano vertical.



Encuentra la traza vertical



Encuentra la traza horizontal.

